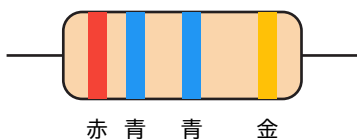


# 抵抗器のカラーコード 読み方練習

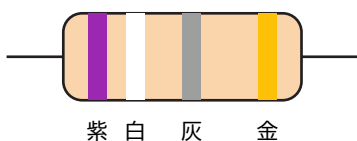
次の抵抗のカラーコードを読み取り、抵抗値と許容差を答えなさい。

(1)



赤 青 青 金

(2)



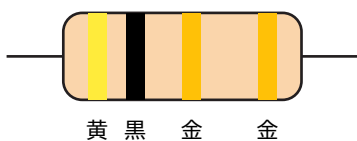
紫 白 灰 金

(3)



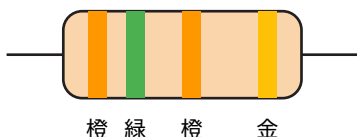
白 紫 黒 金

(4)



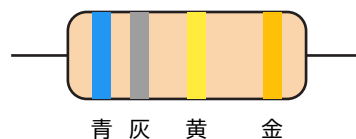
黄 黒 金 金

(5)



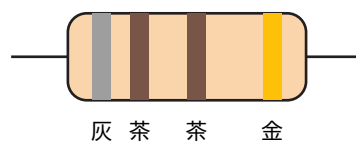
橙 緑 橙 金

(6)



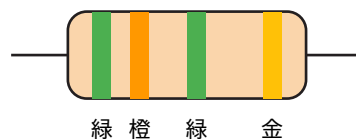
青 灰 黄 金

(7)



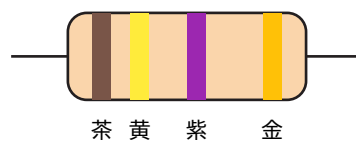
灰 茶 茶 金

(8)



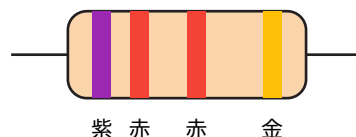
緑 橙 緑 金

(9)



茶 黄 紫 金

(10)



紫 赤 赤 金

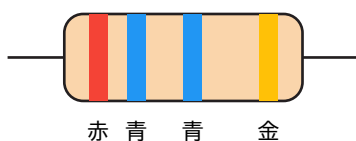
組 番 名前

点

# 抵抗器のカラーコード 読み方練習

次の抵抗のカラーコードを読み取り、抵抗値と許容差を答えなさい。

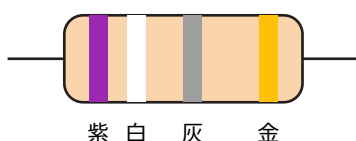
(1)



赤 青 青 金

26 MΩ ±5%

(2)



紫 白 灰 金

7.9 GΩ ±5%

(3)



白 紫 黒 金

97 Ω ±5%

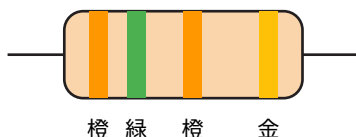
(4)



黄 黒 金 金

4 Ω ±5%

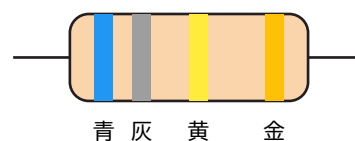
(5)



橙 緑 橙 金

35 kΩ ±5%

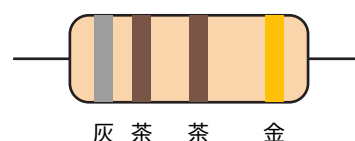
(6)



青 灰 黄 金

680 kΩ ±5%

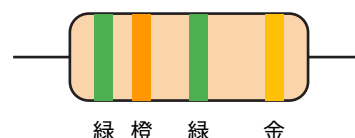
(7)



灰 茶 茶 金

810 Ω ±5%


(8)



緑 橙 緑 金

5.3 MΩ ±5%

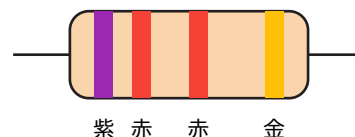
(9)



茶 黄 紫 金

140 MΩ ±5%

(10)



紫 赤 赤 金

7.2 kΩ ±5%